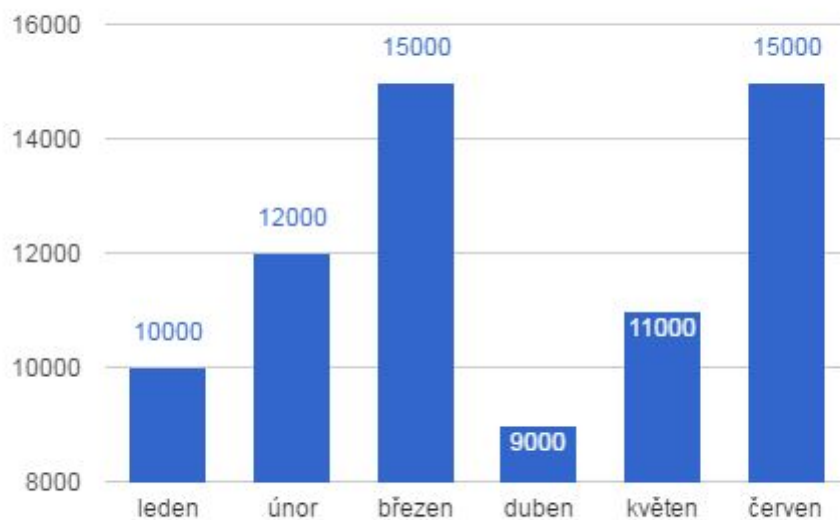


Příprava na přijímací zkoušky SŠ

TEST č. 20 – 9 týdnů do přijímaček

MATEMATIKA

1. V grafu jsou uvedeny výdaje v jednotlivých měsících. Vypočítejte průměrný měsíční výdaj za toto období.

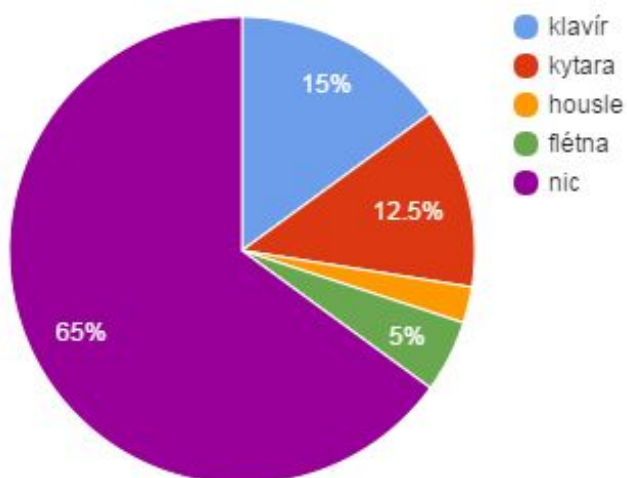


www.skolaposkole.cz  
Příprava na přijímací zkoušky SŠ

---

2. V grafu jsou uvedeny procenta žáků, kteří hrají na hudební nástroj a žáků, kteří na nic nehrají. Žádný žák nehraje na dva hudební nástroje zároveň.

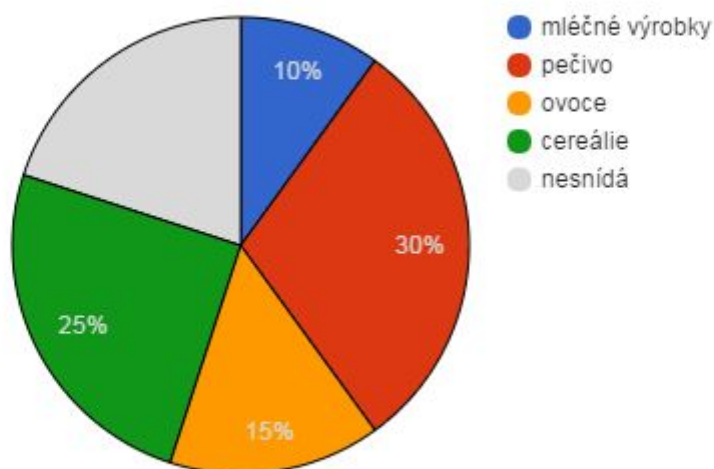
Hudební nástroje



Když víme, že na flétnu hraje 6 žáků, vypočítejte:

1. Kolik žáků je celkem ve škole?
2. Kolik žáků nehraje na žádný hudební nástroj?
3. Kolik žáků hraje na klavír, kytaru a housle?

3. V koláčovém grafu jsou uvedeny snídaňové návyky žáků. Průzkum byl proveden mezi 300 žáky. Žádný z žáků nesnídá více typů zároveň. Vypočtete kolik žáků nesnídá.



ČESKÝ JAZYK

VÝCHOZÍ TEXT

S námahou otevřel oči a viděl, jak jeden voják rozbíjí bedničku a kousky dřeva nakládá do kamen.

1. Graficky naznačte stavbu souvětí, určete druh vět a jejich vztah.

2. Určete slovní druhy:

- a. Jak
- b. Námahou
- c. S
- d. Jeden

3. Určete větné členy:

- a. Jeden
- b. Dřeva
- c. S námahou
- d. Do kamen

4. Od slova **oči** utvořte 7. pád množného čísla:

5. Slovo **S námahou** nahraďte příslovcem:

6. U slovesa **otevřel** určete vid, třídu a vzor

7. Najděte slovo pomnožné:

8. Najděte slovo zdrobnělé a určete jeho základní podobu:

9. Od slova **dřevo** utvořte hromadné podstatné jméno: